

Y _____/20 p. K _____/20 p. S _____/20 p. Nähtyt: _____

1. Yhdistä viivaimella.



10 yli
0:10

5 vaille
0:55

puoli 1
0:30

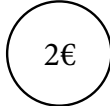
25 yli
0:25

20 yli
0:20

15 vaille
0:45

_____/6 p.


2. Piirrä rahamäärät kolikoina.



3 e

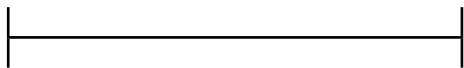
5 e

4 e




_____/3 p.

3. Mittaa janat viivaimella. Merkitse.



_____ cm



_____ cm

_____/2 p.

4. Piirrä. Merkitse lasku. Laske.

- a) Einolla on 7 palloa.
3 palloa menee hukkaan.
Kuinka monta palloa Einolle jää?

--	--	--	--	--

Vastaus: _____

- b) Värikyniä on 9 ja lyijykyniä on 2.
Kuinka paljon vähemmän lyijykyniä on kuin värikyniä?

--	--	--	--	--

Vastaus: _____

- c) Liisalla on 8 postimerkkiä.
Hän saa 6 postimerkkiä lisää.
Kuinka monta postimerkkiä Liisalla on yhteensä?

--	--	--	--	--	--

Vastaus: _____

Y _____/20 p. K _____/20 p. S _____/20 p. Nähtyt: _____

1. Yhdistä.



10 vaille 3

11:20



5 yli 10

4:30



25 vaille 4

10:05



20 yli 11

3:35



15 vaille 7

2:50



puoli 5

6:45

_____ / 6 p.

2. Laske.


a) $4 \text{ € } 50 \text{ snt} - 2 \text{ €} = \text{_____ € } \text{_____ snt}$

b) $6 \text{ € } 80 \text{ snt} - 3 \text{ €} = \text{_____ € } \text{_____ snt}$


c) $5 \text{ € } 60 \text{ snt} - 4 \text{ €} = \text{_____ € } \text{_____ snt}$

_____ / 3 p.

3. Mittaa janat viivaimella. Merkitse.



_____ cm



_____ cm

_____ / 2 p.

4. Piirrä. Merkitse lasku. Laske.

- a) Liisa ostaa 4 pakettia kyniä.
Jokaisessa paketissa on 3 kynää.
Kuinka monta kynää on?

--	--	--	--	--	--

Vastaus: _____

- b) Grillitikkua on 56.
Niistä käytetään 20.
Kuinka monta grillitikkua jää käyttämättä?

--	--	--	--	--	--	--	--

Vastaus: _____


- c) Tiinalla on 27 keräilykorttia.
Markulla on 22 keräilykorttia.
Kuinka paljon enemmän keräilykortteja Tiinalla on kuin Markulla?

--	--	--	--	--	--	--	--

Vastaus: _____


1. Merkitse pistemerkinät ja kulunut aika minuutteina.

a)



:


→



:


Kuluneet minuutit: _____

b)



:

→



:

Kuluneet minuutit: _____

_____ /6 p.

2. Laske.

$8 \text{ € } 25 \text{ snt} + 1 \text{ € } 15 \text{ snt} = \text{_____} \text{ € } \text{_____} \text{ snt}$

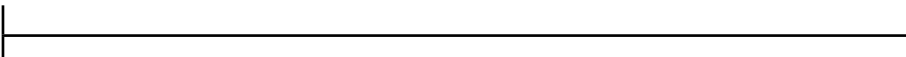
$7 \text{ € } 80 \text{ snt} - 4 \text{ € } 50 \text{ snt} = \text{_____} \text{ € } \text{_____} \text{ snt}$

$4 \text{ € } 50 \text{ snt} + 2 \text{ € } 75 \text{ snt} = \text{_____} \text{ € } \text{_____} \text{ snt}$

_____ /3 p.


3. Mittaa janat viivaimella. Merkitse.

a)



_____ dm _____ cm

b)



_____ cm _____ mm


_____ /2 p.

4. Piirrä. Merkitse lasku. Laske.

a) Punaisia palloja on 37.

Sinisiä palloja on 14.

Kuinka paljon enemmän punaisia palloja on kuin sinisiä palloja?




Vastaus: _____

b) Kärriössä on 48 kiveä.

Kärriöstä heitetään pois 27 kiveä.


Kuinka monta kiveä kärriöyn jää?



Vastaus: _____

c) Parkkipaikalla on kuusi autoa.

Kuinka monta rengasta autoissa on ?



Vastaus: _____